


34 たしざん・ひきざんとず ①

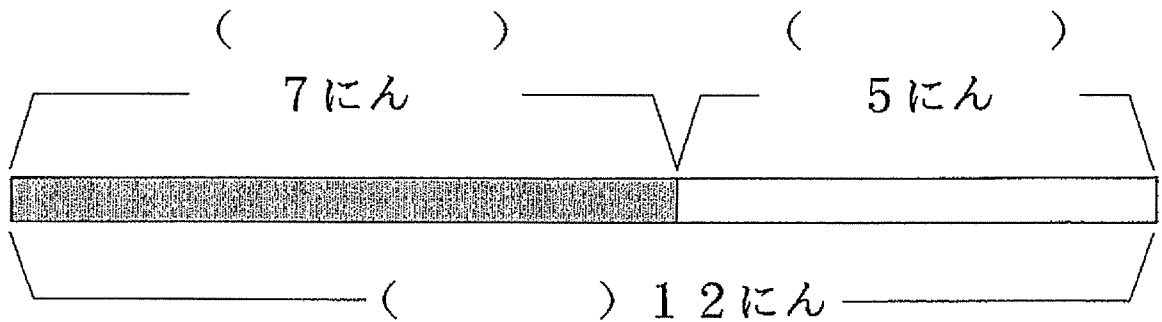
1

合算場面を表すテープ図の理解

おんなのこが 7 にん います。
 おとこのこが 5 にん います。
 ぜんぶで 12 にん います。



このぶんをず に しました。



① () に はいる ことばは どれですか。

おんなのこ


おとこのこ

ぜんぶで

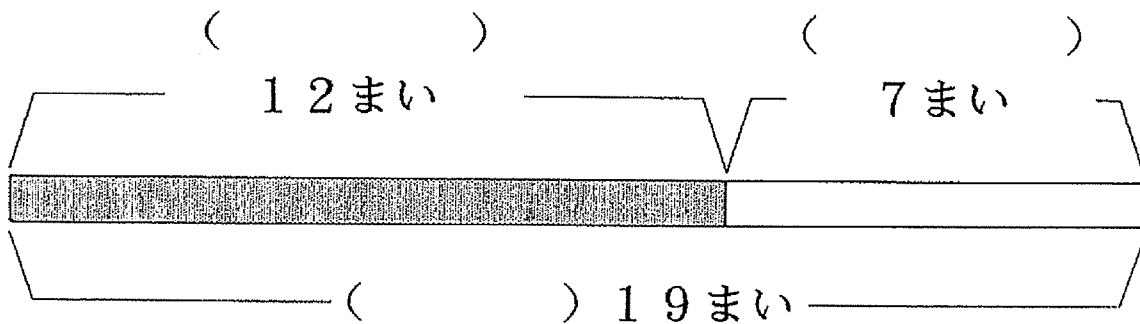
② このぶんを しきに しました。

$$7 + 5 = 12$$

くろいかみが 12まいあります。
 しろいかみが 7まいあります。
 ぜんぶで 19まいあります。



このぶんを ずに しました。




① () にはいる ことばをかきましょう。

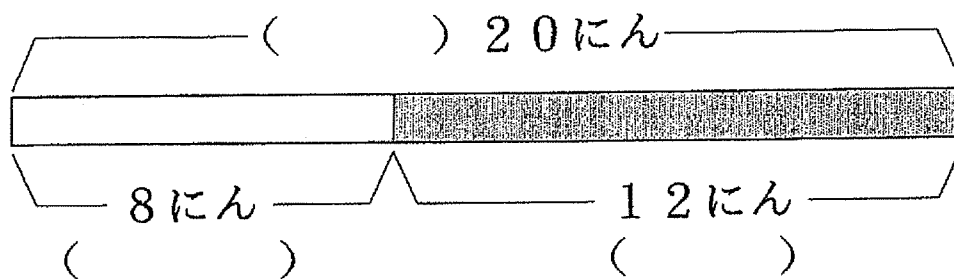
② このぶんを しきに しましょう。

3

はじめ、20にんいました。
8にんかえたので、
のこりは12にんになりました。



このぶんをずにしました。



① () にはいることばはどれですか。

はじめ

かえた


のこり

② このぶんをしきにしました。

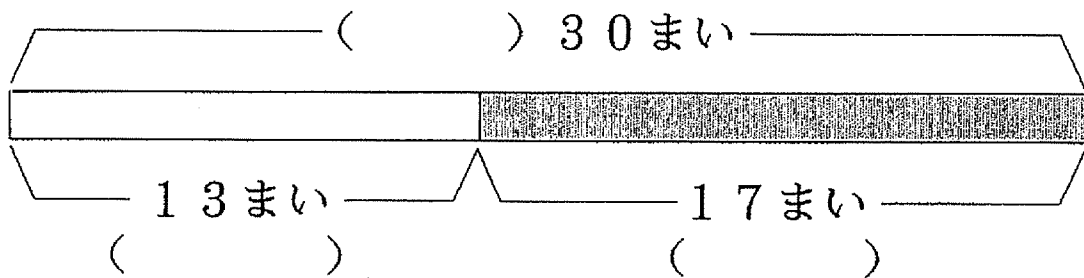
$$\begin{array}{ccccccc}
 \text{はじめ} & & \text{かえた} & & \text{のこり} & & \\
 \boxed{20} & - & \boxed{8} & = & \boxed{12} & &
 \end{array}$$

4

はじめ、かみが 30まいありました。
13まいつかったので
のこりは 17まいになりました。



このぶんをずにしました。



① ()にはいることばをかきましょう。

② このぶんをしきにしましょう。