


36 なんばんめ

集合数とその表現

1

← まえ

うしろ →



まえから 3にんのひと うしろから 3にんのひと

から にん




2

ゆびで さししょう。

- ① まえから 3にんのひと
- ② まえから 4にんのひと
- ③ まえから 5にんのひと
- ④ うしろから 3にんのひと
- ⑤ うしろから 4にんのひと
- ⑥ うしろから 5にんのひと

3



まえから 3にんめのひと

から にんめ



4

ゆびで さししょう。


- ① まえから 4にんのひと
- ② まえから 4にんめのひと
- ③ まえから 5にんのひと
- ④ まえから 5にんめのひと
- ⑤ うしろから 3にんのひと
- ⑥ うしろから 3にんめのひと
- ⑦ うしろから 4にんめのひと
- ⑧ うしろから 4にんのひと

5

3にんめ



3ばんめ



3ばんめ でもいいです。



6

まえから なんばんめの ひとですか。3のえをみて
こたえましょう。

①



②



③



④



⑤



⑥




⑦



⑧



7



- ① まえから 2ばんめの どうぶつは ですか。
- ② まえから 4ばんめの どうぶつは ですか。
- ③ まえから 3ばんめの どうぶつは ですか。
- ④ うしろから 2ばんめの どうぶつは ですか。
- ⑤ うしろから 4ばんめの どうぶつは ですか。

8

あ か さ た な は

- ① ひだりから 3まいめの カードは ですか。
- ② みぎから 2まいめの カードは ですか。
- ③ ひだりから 4まいめの カードは ですか。
- ④ みぎから 3まいめの カードは ですか。
- ⑤ みぎから 4まいめの カードは ですか。