


39 あとなんまいで 10000まい

1

10000の構成・命数法・記数法

1000



かみが 1000まい あります。

これが 5こで なんまい でしょうか。

1000

1000

1000

1000

1000

これが 10こで なんまい でしょうか。

1000

1000

1000

1000

1000

1000


1000

1000

1000

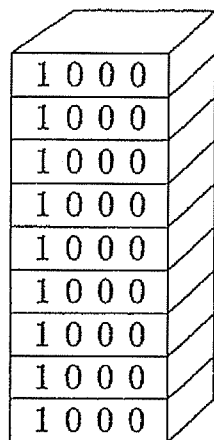
1000

1000を 10あつめた かずを
10000 (いちまん) と いいます。




1000えんを 10にんから あつめたら
いくらになりますか。

①


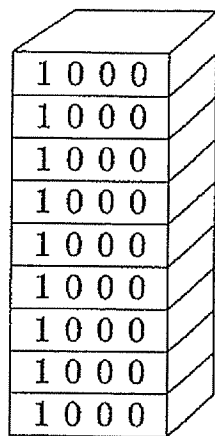


なんまい ありますか。

あと なんまいで
10000まいに
なりますか。


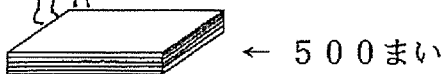


②


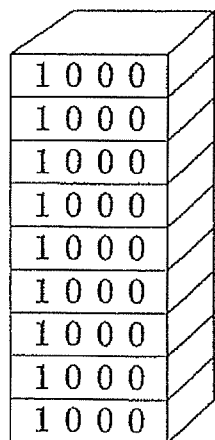


なんまい ありますか。

あと なんまいで
10000まいに
なりますか。

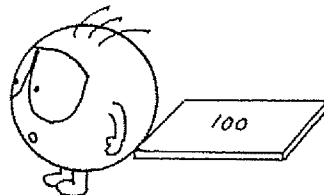
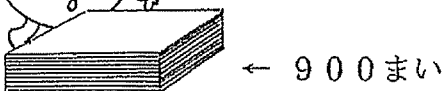


③



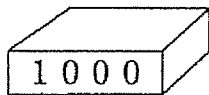
なんまい ありますか。

あと なんまいで
10000まいに
なりますか。

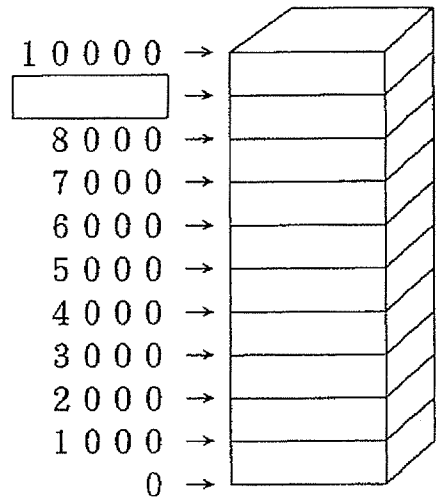


3

にはいる かずは
いくつですか。

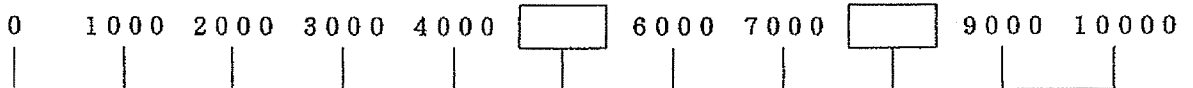


これで
1000だから

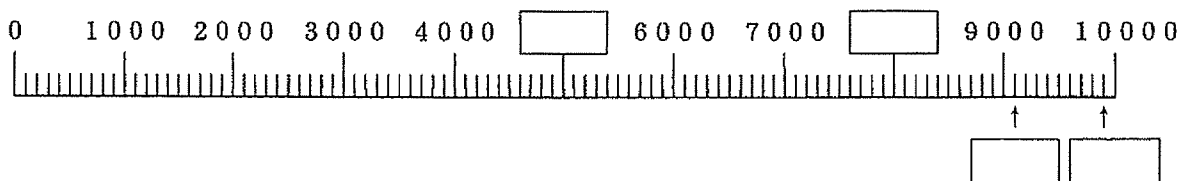


4

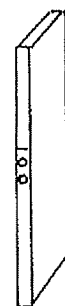

① にはいる かずは いくつですか。



② にはいる かずは いくつですか。



これは 1000。



これは 100。

