



2課

Unidade 2

ようごとぶん

Vocabulários e frases

ようご	Vocabulários
わりざん	Divisão
ぶん	Parte, porção
かく	Escrever
しき	Fórmula matemática, sentença matemática
よみかた	Leitura, modo de ler

ぶん	Frases
ひとりぶんは なんこに になりますか。	Quantas bolachas ficam para uma pessoa?
このことを しきで かきましょう。	Vamos escrever isto em forma de uma sentença matemática.
この しきの よみかたを かきましょう。	Vamos escrever como se lê esta sentença matemática.

2 わりざん

「一人分の数」を求める割り算①

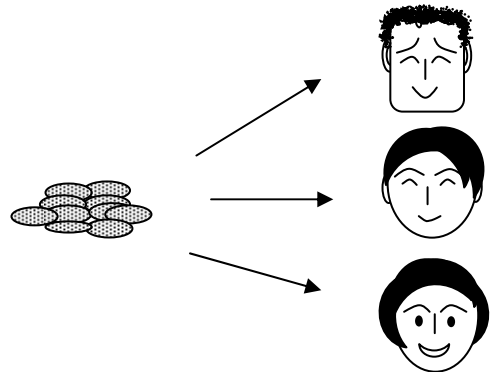
1

12個のクッキーを3人で分けると1人分が4個であることを図と操作で確認する。

クッキーが 12こ あります。

これを 3にんで わけます。

おなじ かずずつ わけます。



12このクッキーを 3にんで おなじ かずずつ わけると、
ひとりぶんは なんこに なりますか。

① クッキーをおなじかずずつわけましょう。

This activity diagram shows a 3x4 grid of 12 cookies on the left. A cartoon character with glasses and a bow tie is in the center, with three dotted arrows pointing to three people's faces on the right. To the right of each face is a horizontal line for writing. Below the grid and faces are four upward-pointing arrows, each corresponding to one of the four boxes in the problem-solving section below.

12この
クッキーを

おなじかず ずつ
わけます。

3にんで
わけます。


ひとりぶんは
□ ことです。

② ひとりぶんは なんこに なりましたか。ここに かきましよう。

2

12個を3人で同じ数ずつ分けると一人分が4個になることを割り算の式で表す。

このことをしきでかくと、こうなります。

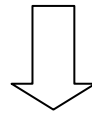
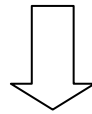
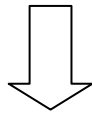
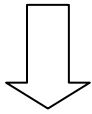
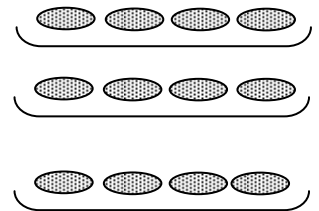
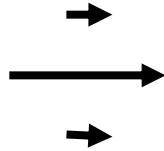
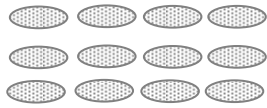


12この
クッキーを

おなじかずずつ
わけます。

3にんで
わけます。

ひとりぶんは
4こです。



12

÷


3

=

4

「12わる3は4」と
よみます。

$$12 \div 3 = 4$$



÷

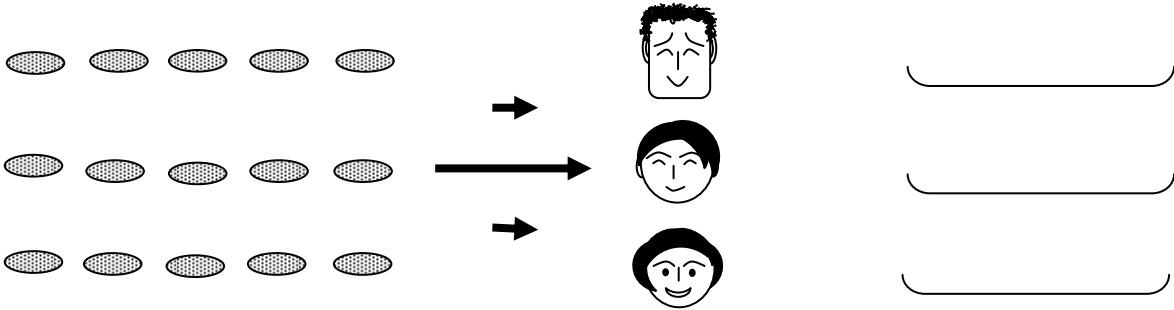
わる




3

式の確認と「割り算」という呼称を知る。

15このクッキーを3にんでおなじかずずつわけましょう。



① このことをしきでかきましょう。

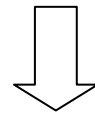
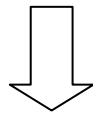
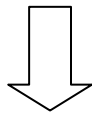
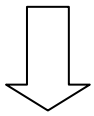


15こ

わけます

3にんで

ひとりぶんは5こ




÷



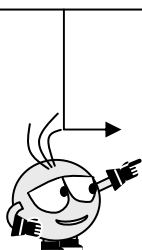
=



② このしきのよみかたをかきましょう。




③ このようなけいさんを「わりざん」といいます。



$$12 \div 3 = 4$$

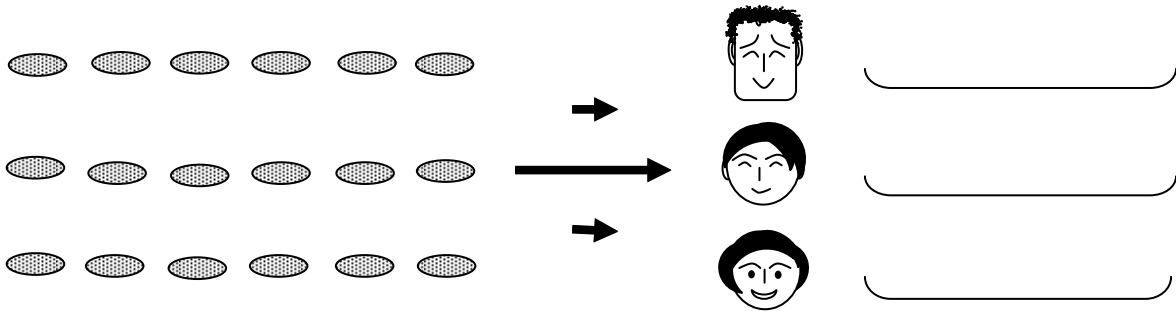
$$15 \div 3 = 5$$




4

1人分を求める「割り算」の式に慣れる。

18このクッキーを3にんでおなじかずずつわけましょう。



① このことをしきでかきましょう。

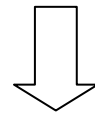
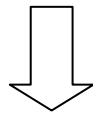
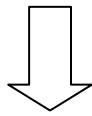
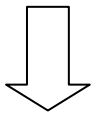


18こ

わけます

3にんで

ひとりぶんは6こ




÷



=



② このしきのよみかたをかきましょう。



③ こういうけいさんを「なにざん」といいますか。

