



11課  
ようごとぶん

Lesson 11  
Words and phrases

Leksyon 11  
Mga Salita

ようご	Words	Mga salita
あげる	carry	carry
いくつ	how many	ilan
けいさんする	calculate; solve	kalkulahin
どちらから どちらに	from~ to~	galing saan, patungo saan
みぎ	right	kanan
ひだり	left	kaliwa

ぶん	Phrases	Grupo ng mga salita
1 あげると 10。	Carry 1 and the number	I- carry and 1 (isa), magiging 10 (sampu)
こたえは いくつですか。	What is the answer?	Ano ang sagot?
けいさん	calculate; solve	kalkulahin
どちらから どちらに あげると いいですか。	Which way is better?	Alin ang mas madaling gawin?
みぎから ひだりに あげると たいへん。	If we borrow from the right and carry over to the left, that's hard work.	Pag humiram sa kanan at i-carry sa kaliwa, mahirap gawin.


# 11 1 あげると

1 位数 + 1 位数で繰り上がりのある計算 (足される数 > 足す数)

1

9 + 4 の けいさんを しましょう。

□□□□□□□□□□ + □□□□

□□□□□□□□□□  □□□□

1 あげると 10。 10 と 3 で 13。

$9 + 4 = 13$

こたえ 13



2

いくつ あげると 10 になりますか。

また、こたえは いくつですか。

① \_\_\_\_\_

$8 + 3$

□□□□□□□□□□ □□□

② \_\_\_\_\_



$9 + 5$

□□□□□□□□□□ □□□□□

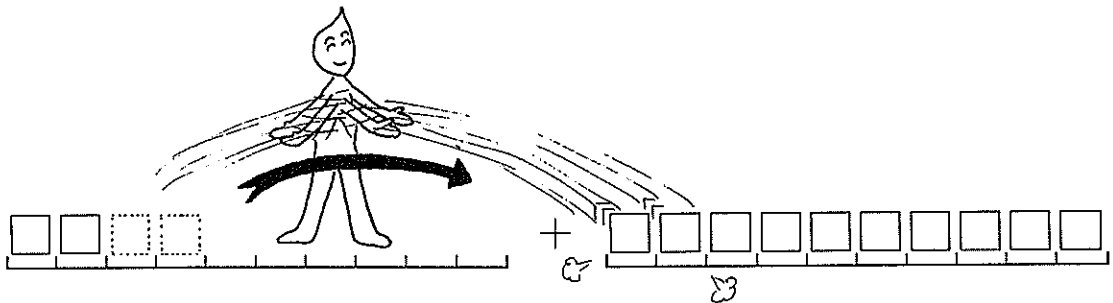
3

4 + 8 の けいさんを しましょう。

どっちから どっちに あげると いいですか。



みぎから ひだりに あげると たいへん。



ひだりから みぎに あげると らく。

だから

ひだりから みぎに 2 あげると いいです。

しき  $4 + 8 = 12$

こたえ 12



4

どっちから どっちに いくつ あげると いいですか。

しきと こたえも かきましょう。

①

$2 + 9$




②

$9 + 2$




③

$8 + 4$



④

$4 + 7$



⑤

$5 + 9$



⑥

$9 + 3$



⑦

$3 + 8$

