



22課  
ようごとぶん

**Lesson 22**  
**Words and phrases**

**Leksyon 22**  
**Mga Salita**

ようご	Words	Mga salita
とりました	taken from	binawas; kinuha

ぶん	Phrases	Grupo ng mga salita
120 えんから 50 えん とりました。	50 yen was taken from 120 yen.	Binawas ang 50 yen mula sa 120 yen.

# 22 あわせていくら。のこりはいくら。

10を単位とする数の構成に着目した加法

1



50えんと70えん。あわせていくらですか。


 と
 

$$\begin{array}{r}
 50 + 70 = 120 \\
 \hline
 \end{array}$$

5 + 7 = 12

(1) 70えんと60えん。あわせていくらですか。


 と
 

$$\begin{array}{r}
 70 + 60 = \square\square 0 \\
 \hline
 \end{array}$$

(2) 30えんと80えん。あわせていくらですか。


 と
 

$$\begin{array}{r}
 30 + 80 = \square\square\square \\
 \hline
 \end{array}$$

(3) 50えんと90えん。あわせていくらですか。


 と
 

$$50 + 90 =$$

2

120えんから50えんとりました。  
のこりはいくらですか。



$$\begin{array}{r} 120 - 50 = 70 \\ \hline \end{array}$$

$$12 - 5 = 7$$

(1) 110えんから40えんとりました。  
のこりはいくらですか。



$$\begin{array}{r} 110 - 40 = \square \\ \hline \end{array}$$

(2) 150えんから80えんとりました。  
のこりはいくらですか。



$$150 - 80 =$$

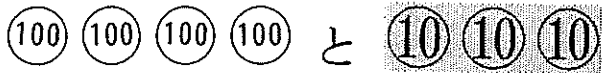
(3) 170えんから90えんとりました。  
のこりはいくらですか。




$$170 - 90 =$$

3

あわせていくらですか。


 (100) (100) (100) (100) と (10) (10) (10)

$$400 + 30 = 430$$



(1) (100) (100) (100) (100) (100) と (10) (10) (10) (10)

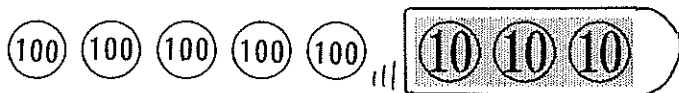
$$500 + 40 =$$

(2) (100) (100) (100) (100) (100) (100) と (10) (10) (10) (10) (10)

$$600 + 50 =$$

4

のこりはいくらですか。


 (100) (100) (100) (100) (100) ||| (10) (10) (10)

$$530 - 30 = 500$$

(1) (100) (100) (100) ||| (10) (10) (10) (10) (10)

$$350 - 50 =$$

(2) (100) (100) (100) (100) ||| (10) (10) (10) (10) (10) (10)

$$460 - 60 =$$