



28課  
ようごとぶん

**Lesson 28**  
**Words and phrases**

**Leksyon 28**  
**Mga Salita**

ようご	<b>Words</b>	Mga salita
3けた	3-digit numbers	3-digit na mga numero

ぶん	<b>Phrases</b>	Grupo ng mga salita
3けたの ひきざん	Subtraction of 3-digit numbers	Ang pagbabawas ng 3-digit na mga numero


28

# 3けたのひきざん


(3位数) - (3位数) で繰り下がりのない計算

1

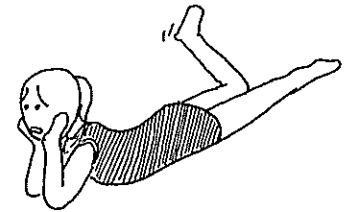
つみきを 358 こならべます。いままでに 235 こならべました。あとなんこならべるとおわりますか。



- 235



あとなんこ？



358 - 235 の けいさんのしかた

●一のくらい

●十のくらい

●百のくらい

$$\begin{array}{r} 358 \\ - 235 \\ \hline \end{array}$$

8 - 5 ↑

⇒

$$\begin{array}{r} 358 \\ - 235 \\ \hline 23 \end{array}$$

5 - 3 ↑

⇒

$$\begin{array}{r} 358 \\ - 235 \\ \hline 123 \end{array}$$

3 - 2 ↑



2

①

$$\begin{array}{r} 549 \\ - 326 \\ \hline \end{array}$$

②

$$\begin{array}{r} 983 \\ - 762 \\ \hline \end{array}$$

③

$$\begin{array}{r} 778 \\ - 543 \\ \hline \end{array}$$

3

673 - 438 の けいさんをしましょう。

● 一のくらのけいさん

- ① 3から8はひけないので、十のくらいから1くりさげて 。

$$\begin{array}{r}
 \textcircled{1} \\
 \begin{array}{r}
 67\cancel{3} \\
 -438 \\
 \hline
 \phantom{67}5
 \end{array}
 \end{array}$$

- ②  -  =

● 十のくらのけいさん

- ③ 1くりさげたので、十のくらいは 。

$$\begin{array}{r}
 \textcircled{3} \\
 \begin{array}{r}
 6\cancel{7}3 \\
 -438 \\
 \hline
 \phantom{6}35
 \end{array}
 \end{array}$$

- ④  -  =

● 百のくらのけいさん

- ⑤  -  =

$$\begin{array}{r}
 \begin{array}{r}
 6\cancel{7}3 \\
 -438 \\
 \hline
 235
 \end{array}
 \end{array}$$



4

①

$$\begin{array}{r}
 842 \\
 -427 \\
 \hline
 \end{array}$$

②


$$\begin{array}{r}
 665 \\
 -148 \\
 \hline
 \end{array}$$

③

$$\begin{array}{r}
 754 \\
 -326 \\
 \hline
 \end{array}$$

5

はがきを 746まい かきます。  
いままでに 385まい かきました。  
あとなんまいかくとおわりますか。



● 一のくらいのけいさん

①  $\square - \square = \square$

● 十のくらいのけいさん

②  $\square$  から  $\square$  はひけない、  
ので、百のくらいから  
1くりさげて  $\square$ 。

③  $\square - \square = \square$

● 百のくらいのけいさん

④ 1くりさげたので、  
百のくらいは  $\square$ 。

⑤  $\square - \square = \square$

$$\begin{array}{r} 746 \\ - 385 \\ \hline \end{array}$$

$$\begin{array}{r} 746 \\ - 385 \\ \hline 61 \end{array}$$

$$\begin{array}{r} 614 \\ - 385 \\ \hline 361 \end{array}$$



6

①

$$\begin{array}{r} 947 \\ - 385 \\ \hline \end{array}$$

②

$$\begin{array}{r} 825 \\ - 342 \\ \hline \end{array}$$

③

$$\begin{array}{r} 786 \\ - 496 \\ \hline \end{array}$$



8

①

$$\begin{array}{r} 937 \\ - 489 \\ \hline \end{array}$$

②

$$\begin{array}{r} 822 \\ - 347 \\ \hline \end{array}$$

③

$$\begin{array}{r} 736 \\ - 468 \\ \hline \end{array}$$

④

$$\begin{array}{r} 836 \\ - 568 \\ \hline \end{array}$$

⑤

$$\begin{array}{r} 587 \\ - 398 \\ \hline \end{array}$$

⑥

$$\begin{array}{r} 614 \\ - 346 \\ \hline \end{array}$$

9

(1) 百のくらいのひきざんのこたえが 0 になる もんだい

①

$$\begin{array}{r} 257 \\ - 169 \\ \hline \end{array}$$

②

$$\begin{array}{r} 854 \\ - 777 \\ \hline \end{array}$$

③

$$\begin{array}{r} 536 \\ - 438 \\ \hline \end{array}$$

(2) 百のくらいのひきざんがない もんだい

①

$$\begin{array}{r} 682 \\ - 97 \\ \hline \end{array}$$

②

$$\begin{array}{r} 333 \\ - 34 \\ \hline \end{array}$$

③

$$\begin{array}{r} 154 \\ - 58 \\ \hline \end{array}$$

10

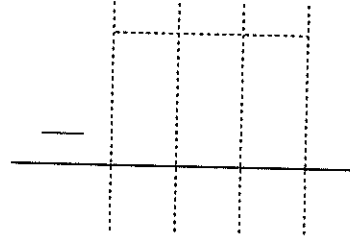
① かみが 467まい あります。

341まい つかいました。

のこりは なんまい ですか。

しき

こたえ



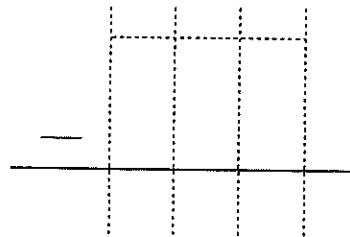
② 523ページの ほんが あります。

242ページ よみました。

のこりは なんページ ですか。

しき

こたえ



③ 836えん もっています。

568えん つかいました。

のこりは いくら ですか。

しき

こたえ

