



指導ポイント&ヒント

36課 なんばんめ

【内容】 集合数 順序数

【表現】 [] から [] 人 / [] から [] 人目・番目・枚目

【指導ポイント&ヒント】

- ・ 「前から3人」というのは1番目の人から3番目の人までの3人の集合を指します。一方「前から3番目」というのは3番目の人だけで、順序を表す言い方です。
- ・ このように数は言い方によって集合を表したり、順序を表したりするということを学ぶ課です。足し算・引き算とは直接関係ありませんが、数を使って順序を表すのは生活場面で欠かせない知識です。
- ・ この課では「指でさす」ことで子どもの理解度を測るようになっています。「前から3人を指でさしてごらん」と言って3番目の人だけをさすか、1番目から3番目までの人をまとめてさすか確かめてください。
- ・ 順序を表す言い方では「N人目」を先に提示し、「N番目」を後から提示しています。それは「N人」と「N人目」の違いを「め」という言葉の違いで際立たせたかったからです。「人」の列で慣れたら動物で「番目」を扱い、次に紙で「枚目」を扱うようにしてあります。ほかにも「個目」や「台目」などの言い方もありますが、助数詞は子どもが苦手とする内容の一つなので、あまり多く扱わない方が無難でしょう。



36課
ようごとぶん

Lesson 36
Words and phrases

Leksyon 36
Mga Salita

| ようご | Words | Mga salita |
|-------------|-------------------|------------------|
| なんばんめ／なんにんめ | what number from~ | pang-ilan |
| まえ | front | unahan |
| 3にんのひと | 3 persons | 3 (tatlong) tao |
| うしろ | back | likuran |
| 4にんめのひと | 4th person | pang-apat na tao |

| ぶん | Phrases | Grupo ng mga salita |
|-------------------------|--------------------------------------------|----------------------------------|
| まえから なんばんめ／なんにんめのひとですか。 | What number is each person from the front? | Pang-ilang tao mula sa unahan. |
| まえから3にんのひと | 3 persons from the front | 3 (tatlong) tao mula sa unahan |
| うしろから4にんめのひと | the 4th person from the back | Pang-apat na tao mula sa likuran |


36 なんばんめ

集合数とその表現

1

← まえ

うしろ ⇒



まえから 3 にんの ひと うしろから 3 にんの ひと

から にん




2

ゆびで さししょう。

- ① まえから 3 にんの ひと
- ② まえから 4 にんの ひと
- ③ まえから 5 にんの ひと
- ④ うしろから 3 にんの ひと
- ⑤ うしろから 4 にんの ひと
- ⑥ うしろから 5 にんの ひと

3



まえから 3にんめのひと

から にんめ



4

ゆびで さししょう。


- ① まえから 4にんのひと
- ② まえから 4にんめのひと
- ③ まえから 5にんのひと
- ④ まえから 5にんめのひと
- ⑤ うしろから 3にんのひと
- ⑥ うしろから 3にんめのひと
- ⑦ うしろから 4にんめのひと
- ⑧ うしろから 4にんのひと

5

3にんめ



3ばんめ










3ばんめ でもいいです。




6

まえから なんばんめの ひとですか。3のえをみて
こたえましょう。

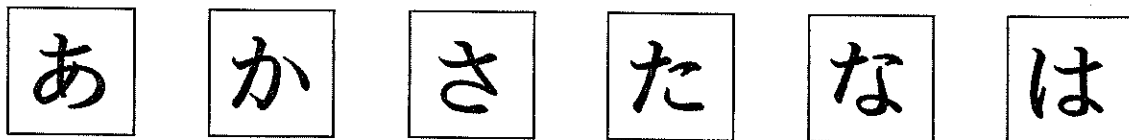


7



- ① まえから 2ばんめの どうぶつは ですか。
- ② まえから 4ばんめの どうぶつは ですか。
- ③ まえから 3ばんめの どうぶつは ですか。
- ④ うしろから 2ばんめの どうぶつは ですか。
- ⑤ うしろから 4ばんめの どうぶつは ですか。

8



- ① ひだりから 3まいめの カードは ですか。
- ② みぎから 2まいめの カードは ですか。
- ③ ひだりから 4まいめの カードは ですか。
- ④ みぎから 3まいめの カードは ですか。
- ⑤ みぎから 4まいめの カードは ですか。