



9課 / Lesson 9 / Leksyon 9

ようごとぶん / Words and phrases / Mga Salita

ようご	Words	Mga salita
なんばい	how many times	ilang beses ang (dami/laki)
3ばい	3 times / triple	3 beses
もつ	to have	mayroon
はがき	post card	postcard
ミニカー	mini car	mini car
だい	(counter for the number of machines like cars)	Ginagamit na pangbilang ng sasakyan
にじゅうとび	double under skipping rope	dalawang ikot ng skip rope sa isang lundag
かい	times	beses (bilang sa ilang ulit)
リボン	ribbon	laso

ぶん	Phrases	Grupo ng mga salita
おとうとは わたしのなんばい (のクッキーを) もっていますか。	How many times as many cookies as I does my younger brother have?	Ilang beses karami ng cookie sa akin ang dami ng cookie ng aking nakababatang kapatid na lalaki?
いもうとは わたしの3ばい (のクッキーを) もっています。	My younger sister has 3 times as many cookies as I .	Ang aking nakababatang kapatid na babae ay mayroong cookies na 3 beses karami ng sa akin.
おにいさんは ミニカーを24だい もっています。	My older brother has 24 minicars.	Ang aking nakatatandang kapatid na lalaki ay mayroong 24 na minicar.
おにいさんは にじゅうとびが 36かい できます。	My older brother can do double under skipping rope 36 times.	Ang aking nakatatandang kapatid na lalaki ay nakakalundag ng 36 beses sa kada ikalawang ulit na ikot ng skipping rope.

(注)塗り潰し部分は「ものの数え方」に関する日本語です。



9

なんばい①

元の数の何倍かを割り算で求める方法

「A倍」の概念を思い出す①

1

わたしはクッキーを 4こ もっています。


いもうとは わたしの 3ばい もっています。

いもうとはクッキーを なんこ もっていますか。



わたしは 4こ

わたしの 3ばい



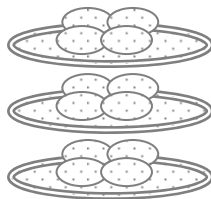
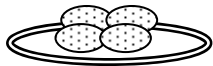
いもうとは

こ



×

=



2

「A倍」の概念を思い出す②


おにいさんは わたしの 4ばい もっています。

おにいさんは なんこ もっていますか。



わたしは 4こ

わたしの 4ばい



おにいさんは

こ



×

=

3


おとうとは 20こ もっています。

おとうとは わたしの なんばい もっていますか。



わたしは4こ わたしの ばい → おとうとは20こ


あれ？ かけざんでは こたえが でませんね。



かけざんを はんたいに すると、
わりざんに なったのを おぼえていますか。



おとうどの かずを	わります <input type="text"/>	わたしの かずで	すると →	なんばいか わかります
--------------	------------------------------	-------------	----------	----------------

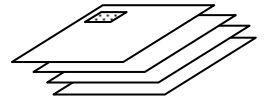


「何倍か」を求めるのに割り算に慣れる。

4

おとうさんは はがきを 24まい もっています。

わたしは 4まい もっています。



おとうさんは わたしの なんばい はがきを もっていますか。




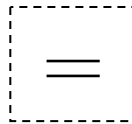

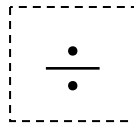

おとうさんの
かずを

わります
□□□□

わたしの
かずで

すると
→

なんばいか
わかります

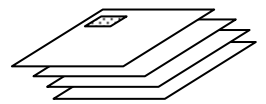


「何倍か」を求めるのに割り算に慣れる②

5

おかあさんは はがきを 28まい もっています。

わたしは 4まい もっています。



おかあさんは わたしの なんばい はがきを もっていますか。


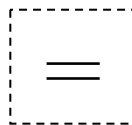

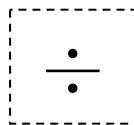

おかあさんの
かずを

わります
□□□□

わたしの
かずで

すると
→

なんばいか
わかります

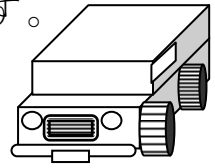


6


おにいさんは ミニカーを 24だい もっています。

ぼくは 8だい もっています。

おにいさんは ぼくの なんばい もっていますか。



□□□□□の かずを	わります □□□□	□□の かずで	すると →	なんばいか わかります
	÷		=	




7


おにいさんは にじゅうとびが 36かい できます。

ぼくは 9かい できます。

おにいさんは ぼくの なんばい できますか。



□□□□□の かずを	わります □□□□	□□の かずで	すると →	なんばいか わかります
	÷		=	



8

おねえさんは にじゅうとびが 32かい できます。

わたしは 4かい できます。

おねえさんは わたしの なんばい できますか。



□ □ □ = □

□ ばい

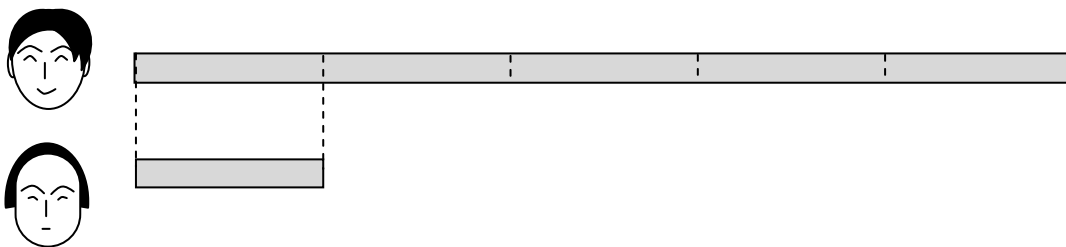
9

おねえさんのリボンは 40cmです。

わたしのは 8cmです。



おねえさんのリボンは わたしの なんばい ですか。



□ □ □ □ □

□ ばい